

Primary School,

Formative Assessment - I

Class: 3rd

Subject: గణితం

	I	II	III	IV	Total
Marks					
Grade					


విద్యార్థి పేరు:


క్రమసంఖ్య:


I. కింద గీసిన వస్తువుల బొమ్మలు చూడండి. వీటిని పై నుండి చూసినపుడు ఇలా కనిపిస్తాయి. వీటిని గుర్తించండి. పేర్లను ఖాళీ గడిలో రాయండి.

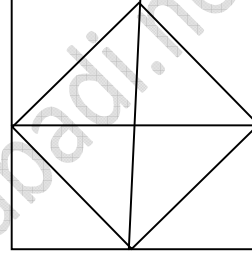


II. లెక్కించండి. రాయండి.

(అ)  లు ఉన్నాయి.

(ఆ)  లు ఉన్నాయి.

(ఇ)  లు ఉన్నాయి.



III. (అ) 6, 8, 9 లచే ఏర్పడు రెండంకెల సంఖ్యలను ఐదింటిని రాయండి.

.....

(ఆ) వీటిలో అతిపెద్ద సంఖ్య :

(ఇ) వీటిలో అతిచిన్న సంఖ్య:

IV. ఇచ్చిన సంఖ్యలకు విస్తరణ రూపం రాయండి.

అ) 35 =

ఆ) 25 =

ఇ) 49 =

ఈ) 34 =

ఉ) 48 =